

6/9 數學小考


(1) 小安下午 4 時 30 分開始寫作業，寫了 40 分鐘，小安寫完作業是下午什麼時候？

(2) 爸爸上午 8 時 30 分到公司上班，上班時間是 8 小時，爸爸下午幾時幾分下班？

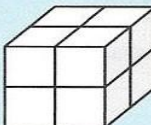
(3) 小蓉上午從臺北搭高鐵到臺南，花了 1 小時 43 分鐘，他在上午 10 時 16 分到達臺南，小蓉搭的高鐵是上午什麼時候從臺北出發？

(4) 明浩星期日到外婆家待了 5 小時 30 分鐘，他下午 4 時 20 分離開外婆家，明浩是上午什麼時候到外婆家？

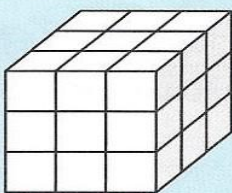
(5) 一個正方體有 1 立方公分。

① 下面是用  堆成的形體，它們的體積各是多少立方公分？

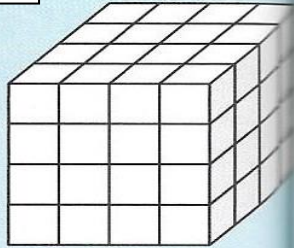
a



b



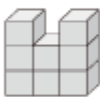
c



() () ()

(6) 一個  是 1 立方公分。下面形體的體積是 8 立方公分的在 () 裡打 \checkmark ，不是的打 \times 。(每題 4 分，共 24 分)

(1)



()

(2)



()

(3)



()